

1080716 - B2

Class - X

कक्षा - X

SOCIAL SCIENCE

सामाजिक विज्ञान

Time : 3 hours

समय : 3 घंटे

Maximum Marks : 80

अधिकतम अंक : 80

Total No. of Pages : 16

कुल पृष्ठों की संख्या : 16

Instructions :

1. The question paper has 36 questions in all. All questions are **compulsory**.
2. Marks are indicated against each question.
3. This question paper consists of **two** parts i.e. **Part-I** and **Part-II**. Part-I of this question paper contains Multiple Choice Questions (MCQs) from serial number 1 to 16 of 1 mark each. These sixteen questions of Part-I are to be answered on a separate sheet provided. This part has to be completed in first **30 minutes only** and the answer sheet must be handed over to the invigilator before starting Part-II.
4. In Part-II of the question paper, there are **20** questions from serial no. 17 to 36. These questions are to be attempted in **2 hours and 30 minutes**. This part should be attempted only after the stipulated time given for Part-I.
5. Questions from serial number 17 to 31 are **3** marks questions. Answer of these questions should not exceed **80 words** each.
6. Questions from serial number 32 to 35 are **4** marks questions. Answer of these questions should not exceed **100 words** each.
7. Question number 36 is a map question of 3 marks from Geography only. After completion, attach the map inside your answer book.
8. An additional 15 minutes time has been allotted to read this question paper only.

निर्देश :

1. इस प्रश्न-पत्र में कुल 36 प्रश्न हैं। सभी प्रश्न **अनिवार्य** हैं।
2. प्रत्येक प्रश्न के निर्धारित अंक प्रश्न के सामने दिये गये हैं।
3. यह प्रश्न-पत्र **दो** भागों में विभाजित है : **भाग-I** और **भाग-II**। भाग-I में प्रश्न संख्या 1 से 16 तक है। इन बहु-विकल्पीय प्रश्नों के उत्तर अलग से दी गई उत्तर पुस्तिका में लिखे। इसके लिये समय अवधि आधा घण्टा तय है। अपने उत्तर पूरा करने के बाद उत्तर पुस्तिका अपने निरीक्षक को सौंप दे। तब भाग दो आरंभ करें।
4. भाग-II प्रश्न-पत्र में 20 प्रश्न दिये गये हैं। प्रश्न 17 से 36 प्रश्नों को हल करने की अवधि **2 घंटे 30 मिनट** है।
5. प्रश्न संख्या 17 से 31 तक के प्रत्येक प्रश्न **तीन-तीन** अंकों के हैं। इन प्रश्नों के उत्तर **80 शब्दों** से अधिक न हो।
6. प्रश्न संख्या 32 से 35 तक के प्रत्येक प्रश्न **चार-चार** अंकों के हैं। इन प्रश्नों के उत्तर **100 शब्दों** से अधिक न हो।
7. प्रश्न संख्या 36 मानचित्र भूगोल विषय का 3 अंकों का है। प्रश्न पूरा होने पर मानचित्र को अपनी उत्तर-पुस्तिका के भीतर संलग्न करे।
8. इस प्रश्न-पत्र को पढ़ने के लिए 15 मिनट का समय दिया गया है। इस अवधि के दौरान छात्र केवल प्रश्न-पत्र को पढ़ेंगे और वे उत्तर-पुस्तिका पर कोई उत्तर नहीं लिखेंगे।

PART - I

1. Which group of countries was known as the 'Axis Powers'? **1**
- (a) Japan, Italy and China (b) Germany, Italy and Japan
(c) Germany, Italy and France (d) None of the above

OR

Who among the following set up the first Indian Jute Mill in Calcutta (Kolkata) in 1917? **1**

- (a) G. D. Birla (b) Seth Hukum Chand
(c) Dinshaw Petit (d) None of the above

OR

Which one of the following cities was designed as a garden city by Raymond Unwin and Barry Parker? **1**

- (a) London (b) Manchester
(c) New Earswick (d) Lancashire

2. According to which famous economist, Indian gold exports promoted global economic recovery ? **1**

- (a) Paul Wood (b) John Maynard Keynes
(c) Amartya Sen (d) David Jones

OR

In which one of the following years did the earliest factories in England come up? **1**

- (a) 1710 (b) 1720 (c) 1730 (d) 1740

OR

Which one of following cities is known as the city of dreams? **1**

- (a) Bombay (Mumbai) (b) Agra
(c) Lucknow (d) Jaipur

3. Who among the following did not write about the caste system? **1**

- (a) E. V. Ramaswamy Naickes (b) Ram Chaddha
(c) B. R. Ambedkar (d) Jyotiba Phule

OR

Who among the following is referred to as the pioneer of modern Hindi Literature? **1**

- (a) Srinivas Das (b) Devaki Nandan Khatri
(c) Prem chand (d) Bharatendu Harish Chandra

4. Who among the following brought the technology of wood block printing to Europe? 1
- (a) Johann Gutenberg (b) Marco Polo
(c) Richard M. Hoe (d) None of the above

OR

- Who among the following is the author of the novel 'Oliver Twist'? 1
- (a) R. L. Stevenson (b) Charles Dickens
(c) Thomas Hardy (d) Leo Tolstoy

5. In which one of the following states is terrace cultivation practised? 1
- (a) Punjab (b) Haryana
(c) Gujarat (d) Uttarakhand

6. In which one of the following states Periyar Tiger Reserve is located? 1
- (a) Tamil Nadu (b) Assam
(c) Madhya Pradesh (d) Kerala

7. Which one of the following techniques is adopted to harvest rainwater in hilly and mountainous regions? 1
- (a) Johads (b) Inundation Channels
(c) Khadins (d) Guls or Kuls

8. Which one of the following crops is a beverage crop? 1
- (a) Tea (b) Cotton
(c) Wheat (d) Bajra

9. Which one of the following statements about coalition Government is true? 1
- (a) Power is shared among the different organs of the government
(b) Power is shared among Governments at different levels
(c) Power is shared by different social groups
(d) Power is shared by two or more political parties.

10. Which one of the following languages was recognised as the only official language of Srilanka in 1956? 1
- (a) Tamil (b) Urdu (c) Hindi (d) Sinhala

11. Who among the following is the head of a Municipal corporation ? 1
(a) Home Minister (b) Sarpanch
(c) Governor (d) Mayor
12. What is the percentage of literacy rate among men in India ? 1
(a) 54 (b) 58
(c) 62 (d) 76
13. Which one among the following is a developmental goal for the landless rural labourers? 1
(a) To get electricity and water
(b) To educate their children
(c) More days of work and better wages
(d) To shift to the cities
14. Which one of the following is the most important attribute while comparing development of various countries? 1
(a) Population
(b) Social status of the people
(c) Political status
(d) Per capita income
15. Which one of the following is not a feature of private sector ? 1
(a) Ownership of assets is in the hands of private individuals or companies
(b) Activities are guided by motive to earn profits
(c) The Government owns most of the assets
(d) None of the above
16. Which one of the following occupations is associated with secondary sector? 1
(a) Agriculture (b) Forestry
(c) Sugar Industry (d) Banking

PART - II

17. Explain any three factors responsible for the invention of 'New Printing Technology'. **3x1=3**

OR

Name any two great works of Charles Dickens, How did industrial age affect his writings? **1+2=3**

18. In what three ways was the print culture helpful for creating conditions for French Revolution? **3x1=3**

OR

High light any three advantages of using vernacular in novels? **3x1=3**

19. How did the Indians copy and preserve their manuscripts? **1+2=3**

OR

Why is 'Titash Ekta Nadir Naam' considered a special novel? Write any two main features of this novel. **1+2=3**

20. Explain three major features of global agricultural economy that had taken shape towards the close of nineteenth century. **3x1=3**

OR

What role did the Indian merchants play in the growth of textiles industries before 1750? Explain any three points. **3x1=3**

OR

Which cities were called 'Presidency Cities' in the 19th century India? Mention any two main features of these cities. **1+2=3**

21. Describe any three main characteristics of black soil in India. **3x1=3**

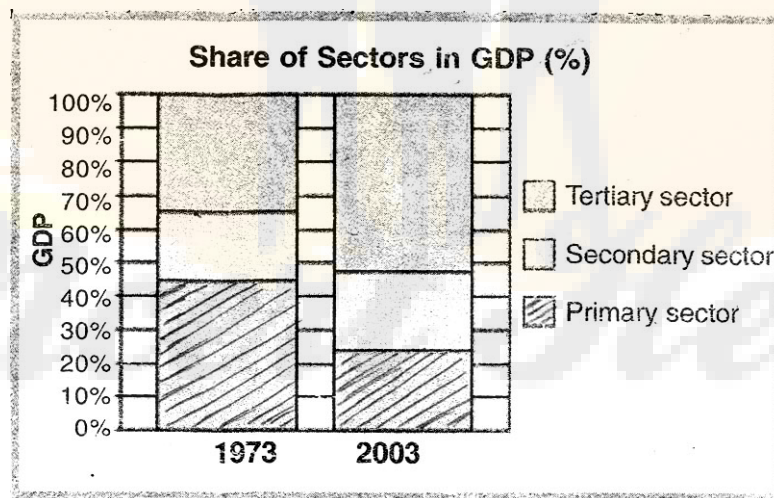
22. Explain any two famous movements for the protection of forests. **1½+1½=3**

23. How far have the multipurpose projects been able to achieve their purpose for which they were made? Explain **3**

24. Why is power sharing desirable? Write any three reasons. **3x1=3**

25. "In a democracy, political expression of social divisions is very normal". Support this statement by giving three suitable arguments. **3x1=3**

26. How did the three athletes, Tommie Smith, John Carlos and Peter Norman contribute to the Civil Rights Movements in U.S. ? 3
27. Highlight any three situations when the problem of communalism becomes acute. 3x1=3
28. Explain the following terms : 3x1=3
 (a) Life expectancy at birth,
 (b) Gross Enrolment Ratio,
 (c) Per capita Income in dollars.
29. On what bases have the rich and low income countries been categorised in the World Development Report, 2006. India comes under which category and why? 2+1=3
30. Highlight any three factors responsible for making tertiary sector so important in India. 3x1=3
31. Compare the employment conditions prevailing in organised and unorganised sectors. 1½+1½=3
32. Study the graph given below and answer the following questions : 1+2+1=4



- 35.1 Which was the largest producing sector in 1973?
 35.2 Which was the largest producing sector in 2003?
 35.3 How much percent is the contribution of secondary sector to total GDP in 2003.
 35.4 What is the approximate share of tertiary sector in GDP (%) in 1973 ?
 For blind students only in lieu of questions number 35.

Answer the following questions :

- (a) Which sector has shown the maximum production between 1973 - 2003
 (b) Why is tertiary sector becoming so important in India ?
 (c) Why could most of the people not shift out of primary sector ?

33. Describe any four important characteristics of wheat cultivation in India ? 4x1=4

34. What is decentralisation ? In what three ways does it help, the successful functioning of democracy ? 1+3=4

35. Define the term 'Trade surplus?' How was the income received from trade surplus with India used by Britain? 1+3=4

OR

Why did the technological changes occurred slowly in the factories in 19th century? Explain any four reason. 4x1=4

OR

How did the development of cities influence the ecology and environment in late 19th century ? Explain your answer by giving the examples of Calcutta (Kolkata) 2+2=4

36. Three features with serial number 1 to 3 are marked on the given political outline map of India. Identify these features with the help of the following information and write their correct names on the lines marked in the Map. 3x1=3

1. Soil type
2. Tiger Reserve
3. The leading tea producing state.

OR

Locate and label the following items with appropriate symbols on the same map given for identification

- (a) Salal Dam
- (b) Sariska Wildlife Sanctuary
- (c) The largest producing state of Maize

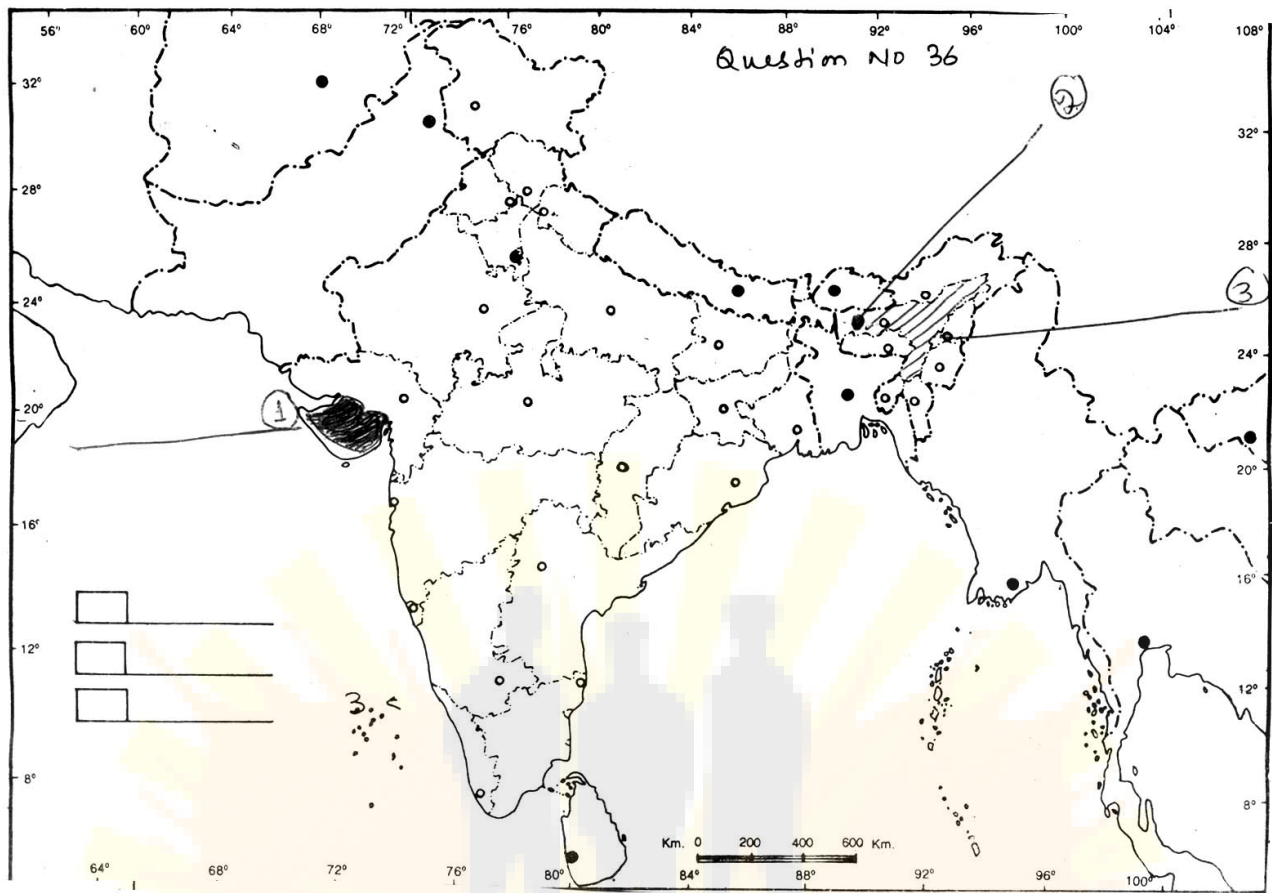
Note : The following question is for the Visually impaired candidates only in lieu of Q. No.36

Answer the following question :

36.1 Name the Tiger Reserve of Assam

36.2 Name the state in which Salal Dam is built

36.3 Name the leading maize producing state of India.



- o o o -

भाग - I

1. किस देश समूह को 'धुरी की शक्तियाँ' कहा जाता था? 1
- (a) जापान, इटली तथा चीन (b) जर्मनी, इटली तथा जापान
(c) जर्मनी, इटली तथा फ्रांस (d) उपरोक्त में से कोई नहीं

अथवा

- निम्नलिखित में से किसने भारत की पहली जूट मिल कोलकाता में स्थापित की? 1
- (a) जी. डी. बिरला (b) सेठ हुकुमचंद
(c) डिनशाँ पेटिट (d) उपरोक्त में से कोई नहीं

अथवा

- निम्नलिखित में से किस नगर का डिजाईन, रेमंड मनविन और बैरी पार्कर द्वारा, गार्डन सिटी के रूप में तैयार किया गया? 1
- (a) लंदन (b) मानचेस्टर
(c) न्यू अर्सविक (d) लंकाशायर

2. किस प्रसिद्ध अर्थशास्त्री के अनुसार, भारतीय सोने कि निर्यात ने वैश्विक अर्थव्यवस्था को प्रोत्साहित किया? 1
- (a) पाल वुड (b) किन्स
(c) आमरत्य सैन (d) डेविड जोन्स

अथवा

- इंग्लैंड में प्रारम्भिक कारखानों का उदय किस वर्ष में हुआ? 1
- (a) 1710 (b) 1720 (c) 1730 (d) 1740

अथवा

- निम्नलिखित में से किस नगर को 'स्वप्नों के नगर' के रूप में जाना जाता है? 1
- (a) बम्बई (मुम्बई) (b) आगरा
(c) लखनऊ (d) जयपुर

3. निम्नलिखित में से किसने जाति प्रथा के बारे में नहीं लिखा? 1
- (a) ई. बी. रामास्वामी नैकर (b) राम चड्डी
(c) बी. आर. आम्बेडकर (d) ज्योतिबा फुले

अथवा

- निम्नलिखित में से किसे आधुनिक हिन्दी साहित्य का प्रणेता कहा जाता है? 1
- (a) श्रीनिवास दास (b) देवकी नंदन खत्री
(c) प्रेमचंद (d) भारतेन्दु हरीशचन्द्र

4. निम्नलिखित में से कौन वुड ब्लॉक प्रिंटिंग (तख्ती की छपाई) की तकनीक को यूरोप में लाया? 1
- (a) जान गुटेन्बर्ग (b) मारको पोलो
(c) रिचर्ड एम. हो (d) उपरोक्त में से कोई नहीं
- अथवा**
- 'ऑलीवर ट्विस्ट' नामक उपन्यास, निम्नलिखित में से किसने लिखा? 1
- (a) आर. एल. स्टीवेन्सन (b) चार्ल्स डिकन्स
(c) थॉमस हार्डी (d) लियो टॉल्स्टाय
5. निम्नलिखित में से किस राज्य में सीढ़ीदार खेती की जाती है? 1
- (a) पंजाब (b) हरियाणा
(c) गुजरात (d) उत्तराखण्ड
6. निम्नलिखित में से किस राज्य में पेरियार बाघ रिज़र्व स्थित है? 1
- (a) तमिलनाडू (b) असम
(c) मध्य प्रदेश (d) केरल
7. पहाड़ी तथा पर्वतीय क्षेत्रों में वर्षाजल संग्रहण के लिए निम्नलिखित में कौन सी विधि अपनाई जाती है? 1
- (a) जोहड़ (b) जल वाहिकाएं
(c) खादीन (d) गुल अथवा कुल
8. निम्नलिखित में से कौन सी फसल एक पेय पदार्थ फसल है? 1
- (a) चाय (b) कपास
(c) गेहूँ (d) बाजरा
9. निम्नलिखित में से कौन सा कथन, गठबंधन सरकार के संदर्भ में सत्य है? 1
- (a) सरकार के विभिन्न अंगों में सत्ता का बटवारा
(b) विभिन्न स्तरों पर सरकारों में सत्ता का बटवारा
(c) विभिन्न सामाजिक समूहों में सत्ता का बटवारा
(d) दो या दो से अधिक राजनीतिक दलों में सत्ता की भागादारी

10. निम्नलिखित में से किस भाषा को, 1956 में श्रीलंका की राजभाषा के रूप में मान्यता प्राप्त हुई थी? 1
(a) तमिल (b) ऊर्दू (c) हिन्दी (d) सिंहली
11. निम्नलिखित में से कौन नगर निगम का मुखिया होता है? 1
(a) गृह मंत्री (b) सरपंच
(c) राज्यपाल (d) महापौर
12. भारत में पुरुषों में साक्षरता दर कितने प्रतिशत है? 1
(a) 54 (b) 58
(c) 62 (d) 76
13. निम्नलिखित में से कौन सा लक्ष्य, भूमीहीन ग्रामीण श्रमिकों का लक्ष्य है? 1
(a) बिजली तथा जल प्राप्त करना
(b) अपने बच्चों को शिक्षित करना
(c) काम के दिन तथा मजदूरी दोनों अधिक हो
(d) नगरों में जा कर बस जाना
14. विभिन्न देशों के विकास की तुलना करते समय सर्वाधिक महत्वपूर्ण गुण कौनसा है? 1
(a) जनसंख्या (b) लोगों का सामाजिक स्तर
(c) राजनीतिक स्तर (d) प्रतिव्यक्ति आय
15. निम्नलिखित में से कौन सी विशेषता, निजी क्षेत्रक की विशेषता नहीं है? 1
(a) परिसम्पत्ति का स्वामित्व निजी हाथों अथवा कम्पनियों के पास होता है।
(b) गतिविधियों का निर्धारण लाभ कमाने के उद्देश्य से किया जाता है।
(c) अधिकांश परिसम्पत्तियाँ सरकारी स्वामित्व के अंतर्गत आती हैं।
(d) उपरोक्त में कोई नहीं।
16. निम्नलिखित में कौन-सा व्यवसाय द्वितीयक क्षेत्रक से सम्बन्धित है? 1
(a) कृषि (b) वाणिकी (c) चीनी उत्पादन (d) बैंकिंग

भाग - II

17. नई मुद्रण तकनीक के आविष्कार के लिए उत्तरदायी किन्हीं तीन कारकों की व्याख्या किजिए। 3x1=3

अथवा

चार्ल्स डिंकंस की किन्हीं दो महान, कृतियों के नाम लिखिए। औद्योगिक काल ने उस के लेखों को किस प्रकार प्रभावित किया? 1+2=3

18. मुद्रण संस्कृति ने किन तीन तरीकों से फ्रांसीसी क्रांती के लिए सहायक परिस्थितियां रची? 3x1=3

अथवा

उपन्यासों में वर्नाकुलर भाषा का प्रयोग किए जाने के कोई तीन उपयोग बताइए। 3x1=3

19. भारतीय लोग किस प्रकार अपनी पांडूलिपियों की नकल करते थे तथा उन्हें सुरक्षित रखते थे? 1+2=3

अथवा

'तीताश एकटी नदीर नाम' नाम के पुस्तक को एक विशिष्ट उपन्यास क्यों समझा जाता है? इस उपन्यास की कोई दो विशेषताएँ लिखिए। 1+2=3

20. उन्नीसवीं शताब्दी के अंतिम वर्षों में सामने आने वाली वैश्विक कृषि अर्थव्यवस्था की किन्हीं तीन विशेषताओं की व्याख्या किजिए। 3x1=3

अथवा

1750 से पूर्व, भारतीय व्यापारियों ने वस्त्र उद्योग के विकास के लिए क्या भूमिका अदा की। किन्हीं तीन बिन्दुओं को स्पष्ट कीजिए। 3x1=3

अथवा

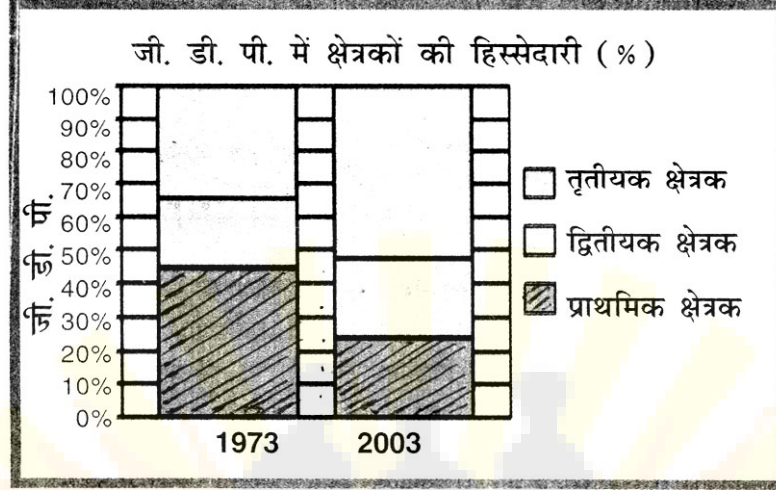
उन्नीसवीं शताब्दी में भारत के किन शहरों को प्रेसीडेन्सी शहर कहा जाता था? इन नगरों की किन्हीं दो मुख्य विशेषताओं का उल्लेख किजिए। 1+2=3

21. भारत में काली मिट्टी की किन्हीं तीन विशेषताओं का वर्णन कीजिए। 3x1=3

22. वनों के संरक्षण से सम्बन्धित किन्हीं दो प्रमुख आंदोलनों की व्याख्या कीजिए। 1½+1½=3
23. बहुउद्देशीय परियोजनाएं किस सीमा तक उन लक्ष्यों को प्राप्त कर पाई हैं जिनके लिए उन का निर्माण किया गया था ? 3
24. सत्ता की साझेदारी वांछनीय क्यों हैं? कोई तीन कारण लिखिए। 3x1=3
25. “लोकतंत्र में सामाजिक विभाजनों की राजनीतिक अभिव्यक्ति एक आम बात है।” तीन उपर्युक्त तर्कों द्वारा इस कथन का समर्थन कीजिए। 3x1=3
26. संयुक्त राज्य अमरीका में, नागरीक अधिकार आंदोलन के लिए, तीन धावकों टामी स्मिथ, जान कार्लोस और पीटर नार्मन ने कैसे योगदान दिया ? 3
27. ऐसी तीन परिस्थितियों को उजागर कीजिए जिन में साम्प्रदायिकता की समस्या और भी विकट हो जाती है। 3x1=3
28. निम्नलिखित को परिभाषित कीजिए : 3x1=3
- (a) जन्म के समय जीवन प्रत्याशा
- (b) कुल नामांकन अनुपात
- (c) डालर में प्रति व्यक्ति आय
29. विश्व विकास रिपोर्ट, 2006 के अनुसार धनाढ्य देशों तथा कम आय वाले देशों को श्रेणीबद्ध करने का आधार क्या है? भारत इन में से किस श्रेणी में आता है और क्यों? 2+1=3
30. भारत में तृतीयक क्षेत्रक को इतना महत्वपूर्ण बनाने के लिए उत्तरदायी किन्हीं तीन कारकों को उजागर कीजिए। 3x1=3

31. संगठित तथा असंगठित क्षेत्र कों में पाई जाने वाली रोजगार की स्थितियों की तुलना किजिए। 1½+1½=3

32. नीचे दिए गए आरेख का अध्ययन कीजिए तथा निम्नलिखित प्रश्नों के उत्तर दीजिए। 1+2+1=4



35.1 1973 में सर्वाधिक उत्पादन वाला क्षेत्रक कौनसा था ?

35.2 2003 में सर्वाधिक उत्पादन वाला क्षेत्रक कौनसा था ?

35.3 2003 में सकल घरेलू उत्पाद (जी.डी.पी.) में द्वितीयक क्षेत्रक का योगदान कितने प्रतिशत है ?

35.4 1973 में जी.डी.पी. (%) में तृतीयक क्षेत्रक का लगभग कितना योगदान है ?

नोट : दृष्टिहीन परीक्षार्थियों के लिए, प्रश्न संख्या ३५ के स्थान पर

निम्नलिखित प्रश्नों के उत्तर दीजिए :

(a) 1973 - 2003 के मध्य किस क्षेत्रक का उत्पादन अधिकतम था ?

(b) भारत में तृतीयक क्षेत्रक इतना महत्वपूर्ण क्यों बनता जा रहा है ?

(c) अधिकांश लोग प्राथमिक क्षेत्रक से बाहर क्यों नहीं निकल सके ?

33. भारत में गेहू की खेती की किन्हीं चार विशेषताओं का वर्णन कीजिए। 4x1=4

34. विकेन्द्रीकरण किसे कहते हैं ? किन तीन तरीकों से यह लोकतंत्र के सफल संचालन में सहायक है ? 1+3=4

35. 'व्यापार अधिशेष' को परिभाषित किजिए। अंग्रेजों ने भारत के साथ व्यापार से प्राप्त 'व्यापार अधिशेष' का प्रयोग किस प्रकार किया? 1+3=4

अथवा

- 19 वीं शताब्दी के कारखानों में तकनीकी परिवर्तन धीरे धीरे क्यों हुए हैं। कोई चार तर्क दीजिए। 4x1=4

अथवा

- उन्नीसवीं शताब्दी के अन्त में, नगरों के विकास ने किस प्रकार पारिस्थितिकी को और पर्यावरण को प्रभावित किया? कलकत्ता के उदाहरणों की सहायता से अपने उत्तर को समझाइए। 2+2=4

36. भारत के दिए गए राजनीतिक रेखा मानचित्र में क्रमांक 1 से 3 द्वारा तीन लक्षण दर्शाएँ गए हैं। नीचे दी गई जानकारी की सहायता से उन्हें पहचानिए तथा निर्धारित स्थान पर उनके सही नाम लिखिए। 3x1=3

1. मृदा प्रकार
2. बाघ रिजर्व
3. प्रमुख चाय उत्पादक राज्य

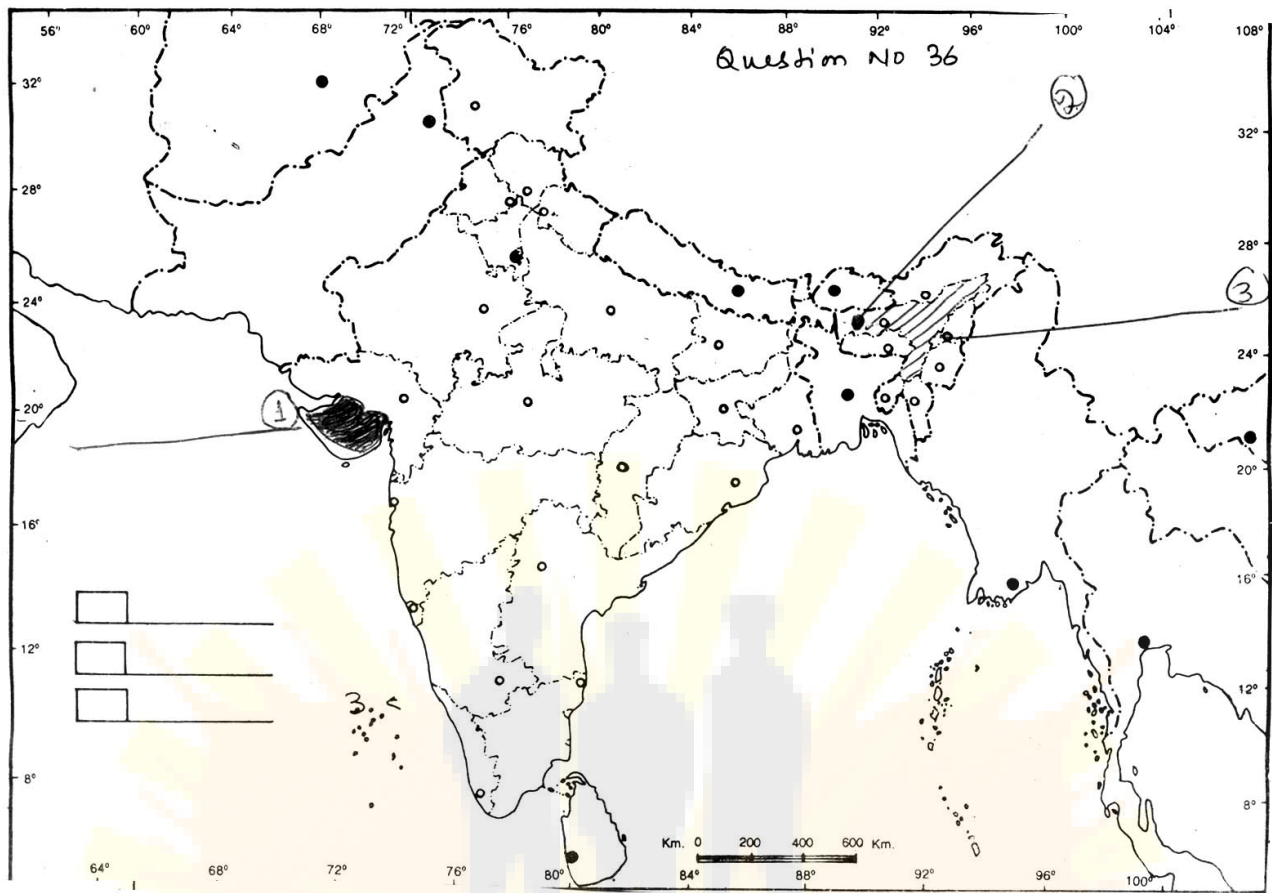
अथवा

पहचान के लिए दिए गए मानचित्र में ही निम्नलिखित को दर्शाइए तथा उनके नाम लिखिए।

- (a) सलाल डैम
- (b) सरिस्का वन्य प्राणी पशुविहार
- (c) सर्वाधिक मक्का उत्पादक राज्य

Note: केवल दृष्टिहीन छात्रों के लिए, प्रश्न संख्या 36 के स्थान पर। निम्नलिखित प्रश्नों के उत्तर दीजिए :

- 36.1 असम के बाघ रिजर्व का नाम लिखिए।
- 36.2 उस राज्य का नाम लिखिए जहाँ सलाल डैम स्थित है।
- 36.3 भारत के सर्वाधिक मक्का उत्पादक राज्य का नाम लिखिए।



- o o o -